


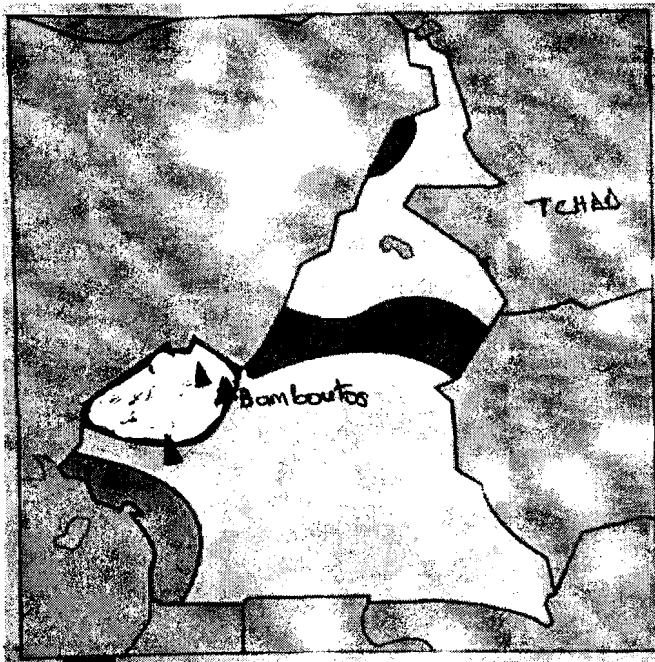
COLLEGE F.X. VOGT		ANNÉE SCOLAIRE : 2023-2024
DÉPARTEMENT D'HISTOIRE-GEOGRAPHIE	EPREUVE DE GEOGRAPHIE	SESSION INTENSIVE Avril 2024
Classes : 6 ^{èmes}	Coef. : 2	Durée : 1H

PARTIE A : LA VERIFICATION DES RESSOURCES 09 pts

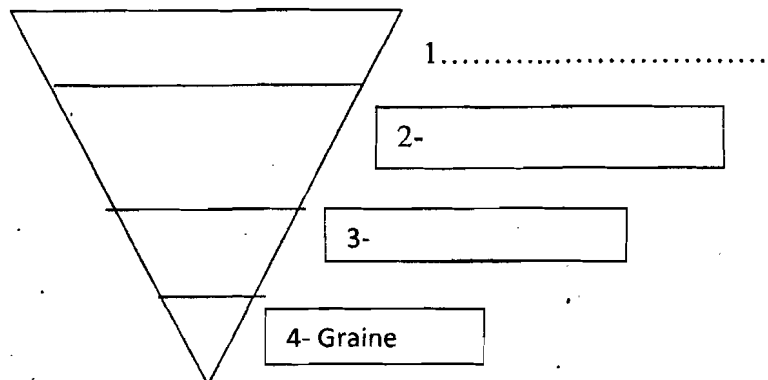
- I- **La vérification des savoirs 04pts**
- 1) Définis : mouvement tectonique ; volcanisme 1x2= 2pts
 - 2) Cite deux (02) mouvements des plaques 0,5 x2 = 1pt
 - 3) Enumère deux (02) conséquences positives du volcanisme 0,5 x2 = 1pt

II- **La Vérification des Savoir-faire 05pts**

1) Sur le fond de carte ci-joint :



- a) Trace la ligne volcanique du Cameroun 1pt
 - b) Localise le mont Cameroun 0,5pt
 - c) Localise les hauts plateaux de l'ouest 0,5pt
- 2) Réponds par vrai ou faux. 0,5x3= 1,5pt
- L'auteur de la théorie de la dérive des continents est Alfred Wegener.
 - Le nom du continent unique est America.
 - Le magma est une vague géante qui se déverse sur la cote.
- 3) Complete le schéma ci-dessous sur la structure de la terre. 0,5x3=1,5pt



PARTIE B : LA VERIFICATION DES COMPETENCES

Situation problème : Dans ton village, les populations coupent constamment le bois de la forêt pour le chauffage et la cuisine, ce qui engendre de graves conséquences. Tu es interpellé par le Chef du village pour proposer des solutions à ce problème.

Document 1: La déforestation



Document 2 : La dégradation du milieu...

La pression démographique et l'exploitation intensive provoque la dégradation de la forêt et l'appauvrissement des sols : environ 1% de la forêt camerounaise disparaît chaque année. Les chasseurs et les agriculteurs occupent les espaces défrichés, provoquant la disparition de la faune sauvage tandis que la rotation des cultures... dégrade le sol. Certaines activités industrielles, l'oléoduc Tchad-Cameroun, l'exploitation minière et pétrolière, la construction des routes et des barrages ont un impact décisif sur la biodiversité...

Source : BOTNEM Victor Emmanuel, Planète Cameroun, Géographie 3^e, P 22.

Consigne : Effectue les tâches suivantes :

- | | |
|--|--------------|
| 1- Présente le problème évoqué dans la situation ci-dessus | 3pts |
| 2- Relève dans les documents | |
| a- deux causes de la déforestation | 1,5pt |
| b- conséquences de la destruction du milieu forestier | 1,5pt |
| 3- Propose au Chef du village deux(02) solutions pour préserver la forêt | 3pts |

Présentation : 2 pts