


Lundi 12/12/2023

COLLEGE PRIVE BILINGUE MONTESQUIEU

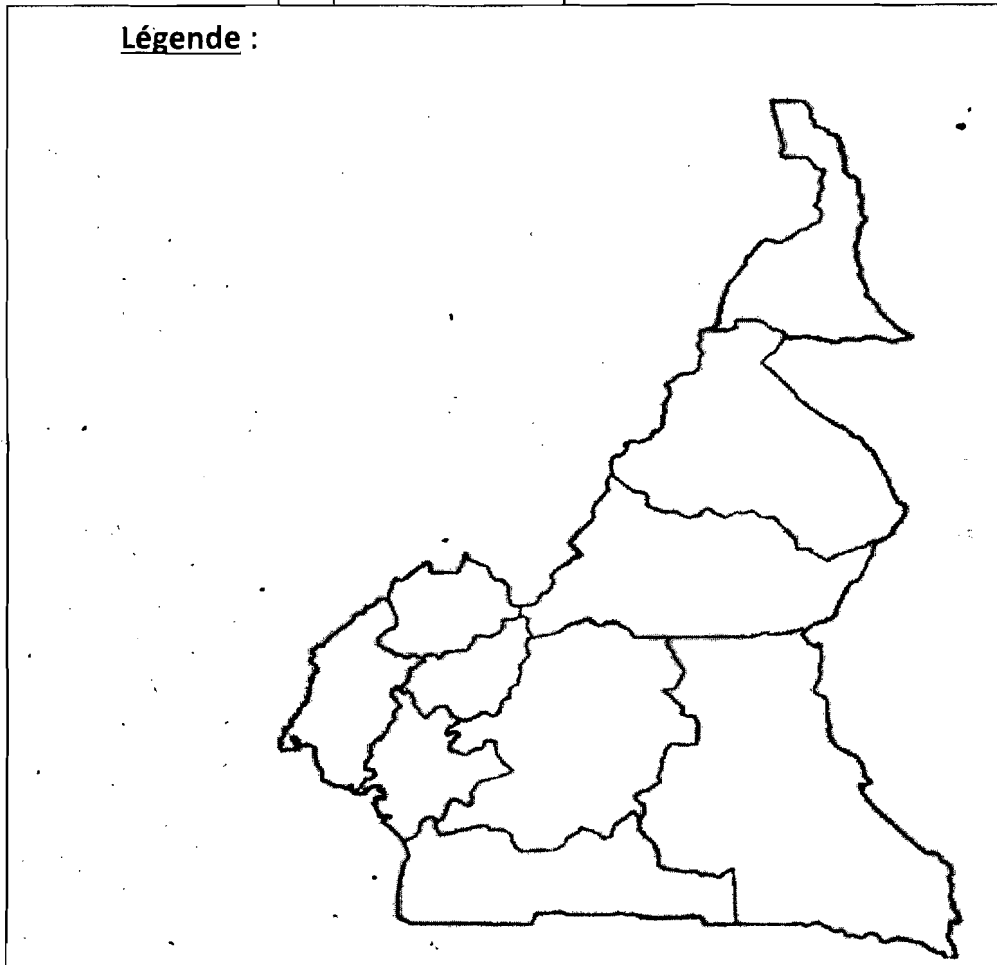
EPREUVE DE GEOGRAPHIE



Classe : Tle CD évaluation n°3 Année scolaire 2023-2024 coéf 2 Durée 2h

PARTIE A : L'EVALUATION DES RESSOURCES : 9pts

- 1- Dans une production cohérente de 10 à 15 lignes, présente clairement trois transformations dans la pratique de l'artisanat au Cameroun. **5pts**
- 2- Travaux pratiques : a) Sur le fond de carte ci-après, localise deux régions de pratique de la pêche et deux régions de pratique de la riziculture. **2pts**



-
- b) Explique deux raisons qui justifient cette localisation de ces activités dans les régions respectives ? **2pts**

PARTIE B : L'EVALUATION DES COMPETENCES : 9pts

THEME : LA PROMOTION DU DEVELOPPEMENT INTEGRE.

DOCUMENTS :

Document 1 :


- Les populations autochtones des départements du Fako, du Ndian soutiennent que la CDC ne saurait leur échapper (...), car l'Etat leur a arraché « leur terre » pour céder à la CDC. De ce fait, une compensation en termes d'emploi reste un droit pour elles qui ont perdu leur droit à la terre. Et seul un statut d'entreprise publique peut leur permettre d'en tirer pleinement profit... L'importance de la CDC n'est plus à démontrer. Jusqu'à une période récente, la société se confondait à l'Etat...

En termes de responsabilités sociétales, la CDC assure la construction et l'entretien du réseau routier dans de nombreuses localités de la région... Des biens immobiliers lui appartenant servent de logement à des responsables administratifs et de siège aux forces de défense... la société dépense annuellement environ 25 000 000 de FCFA pour venir en aide à différents postes de gendarmerie et police de la région du Sud-ouest. En ce qui concerne l'éducation, la CDC paie environ 154 751 000 FCFA de salaire annuel aux instituteurs des écoles publiques situées dans son aire d'opération... S'agissant des conditions de vie des populations, plusieurs quartiers ont accès à l'eau potable grâce aux actions de la société.


Source : E. ASSOUA, « Plantations industrielles de bananiers au Cameroun : le cas des plantations de la région du Sud-ouest », Mémoire de Master II, Université de Yaoundé, 2013.

Document 2 : La place de l'agriculture dans l'économie

Part de la population active



Part du PIB



Autosuffisance alimentaire



Source : V.E. BOTNEM et al., Géographie 3^e et 4^e année, Planète Cameroun, San Mauro, 2018, p.54.

Document 3 : Les plantations du Haut Penja (PHP).



Consigne : Les documents ci-dessus présentent la transformation de l'agriculture camerounaise. Rédige une production cohérente en t'appuyant sur les tâches suivantes.

- 1- Montre à partir de deux arguments, la place primordiale de l'agriculture dans l'économie camerounaise. **3pts**
- 2- Analyse deux impacts de l'agriculture des grandes plantations sur la société camerounaise. **3pts**
- 3- Propose deux solutions permettant d'assurer le décollage l'agriculture du Cameroun. **3pts**

Examineur : Menounga Albert

Perfectionnement :

2pts