


COLLEGE F-X VOGT		Année scolaire 2022-2023
DEPARTEMENT D'HISTOIRE- GEOGRAPHIE	EPREUVE DE GEOGRAPHIE	Situation N° 6 PROBATOIRE BLANC N°1
Classes : PA-PC-PD-PSES-PTI	Durée : 2h	Coef : 2

PREMIERE PARTIE : EVALUATION DES RESSOURCES

(9pts)

1. Présente deux (02) problèmes de la commercialisation des produits tropicaux.

(5pts)

(Le candidat répondra par un cours texte de 10 à 15 lignes.)

2. Travaux Pratiques :

a. Sur la mappemonde ci-joint, localise :

- Une région de grand foyer industriel en Europe et en Amérique.

(1x2=2pts)

b. Analyse deux (02) faiblesses de l'industrialisation des pays de l'hémisphère Sud.

(2pts)

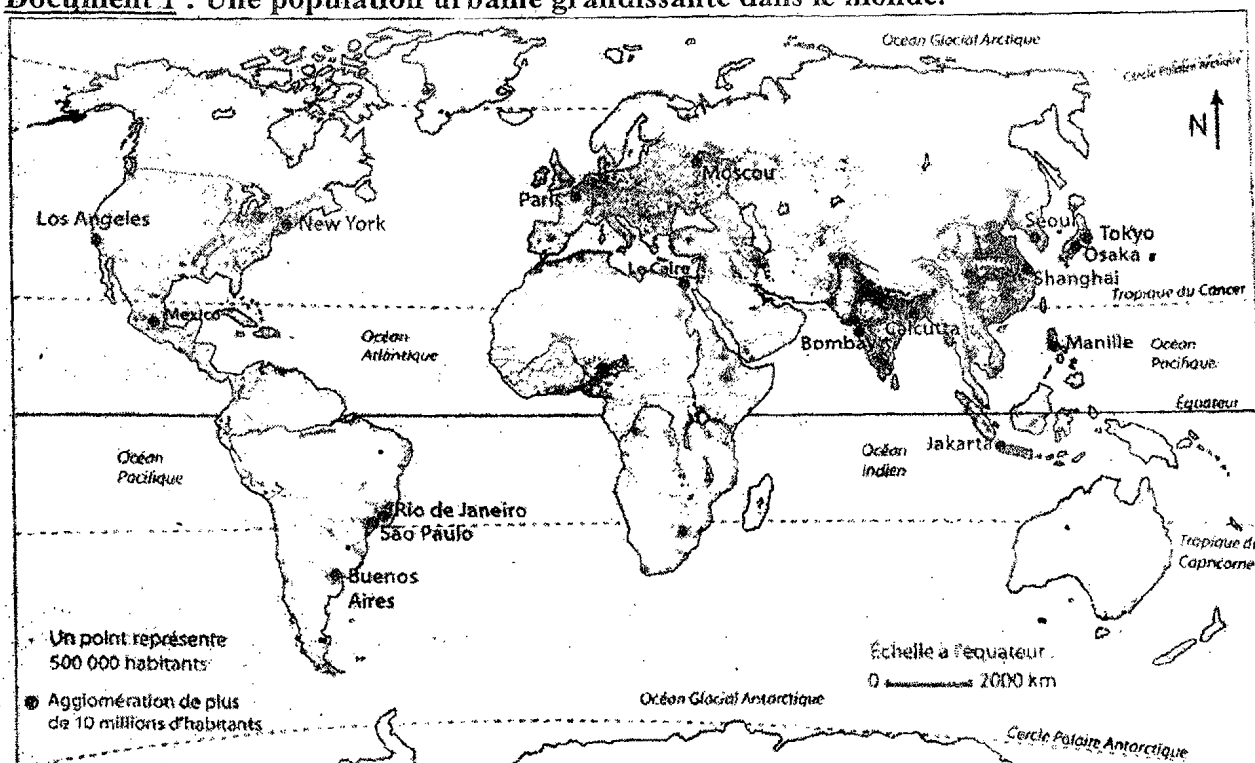
DEUXIEME PARTIE : EVALUATION DE L'AGIR COMPETENT / DES COMPETENCES

(9pts)

Thème : Limitation des migrations.

a. Supports

Document 1 : Une population urbaine grandissante dans le monde.



Source : <https://www.google.fr>

Document 2 : L'urbanisation en Afrique.

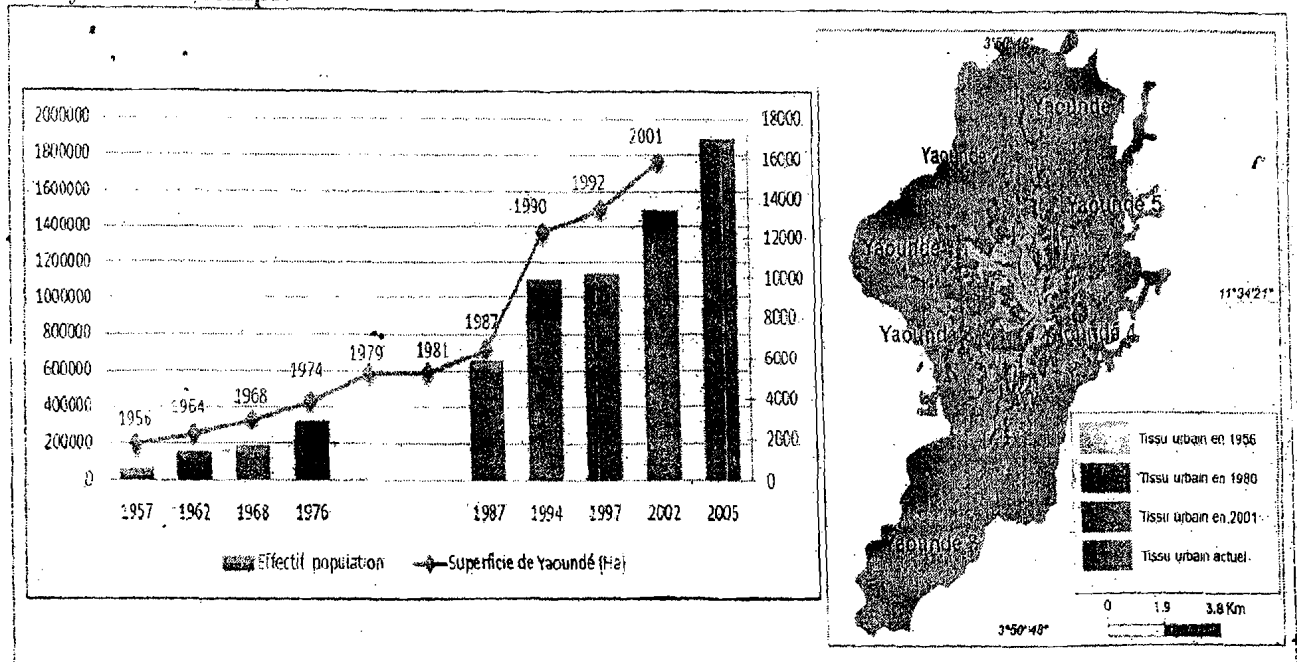
Il convient toutefois de souligner que le développement de la ville ne doit pas se faire au détriment de la campagne. C'est le cas lorsque les besoins des campagnes ne sont pas satisfaits. Une telle situation engendre l'exode rural, la délinquance juvénile, la criminalité et autres vices à caractère urbain. D'où, la nécessité de développer des stratégies et actions qui permettent aux ruraux de se sentir à l'aise dans leur milieu pour continuer à être les fournisseurs de matières premières pour le développement industriel et agro-industriel des

villes. Les conditions de vie et de travail en campagne doivent être en sorte que le motif du déplacement des populations vers la ville soit d'aller saisir des opportunités d'emploi en tant que main-d'œuvre qualifiée pour l'agro-industrie et autres métiers urbains.

Ce qui n'est souvent pas le cas en Afrique où la dégradation de la vie en campagne fait que la ville est malheureusement et illusoirement perçue comme l'endroit unique où il peut faire bon vivre. L'évolution des villes africaines crée pour le développement durable des distorsions telles que l'apparition de quartiers spontanés à la périphérie sans aucun plan de développement foncier, l'abondance de main-d'œuvre non qualifiée reconvertie en conducteurs de taxi-motos sans aucune formation préalable au code de la route.

Source : Dr Emile N. Houngbo, *Les relations ville-campagne deux réalités complémentaires et interdépendantes*, dans innovation, environnement, développement en Afrique. 2016.

Document 3 : Croissance spatiale et démographique de Yaoundé de 1956 à 2005 : une analyse sur le temps.



Source : Gaston Ndock Ndock, *Urbanisme de rattrapage, marquage territorial populaire et conflits d'autonomies dans les quartiers de Yaoundé (Capitale du Cameroun)*, 2020.

b. Consigne : Les villes se multiplient et leurs problèmes grandissent, surtout dans les pays du Tiers Monde. Rédige une production cohérente dont les grandes lignes reposent sur les tâches suivantes.

1. Présente deux (02) modes d'expansion des villes. 3pts
2. Explique deux (02) impacts négatifs des relations ville-campagne. 3pts
3. Propose deux (02) mesures à adopter afin de résoudre les problèmes d'organisation des espaces urbains. 3pts

Présentation : 2pts

