


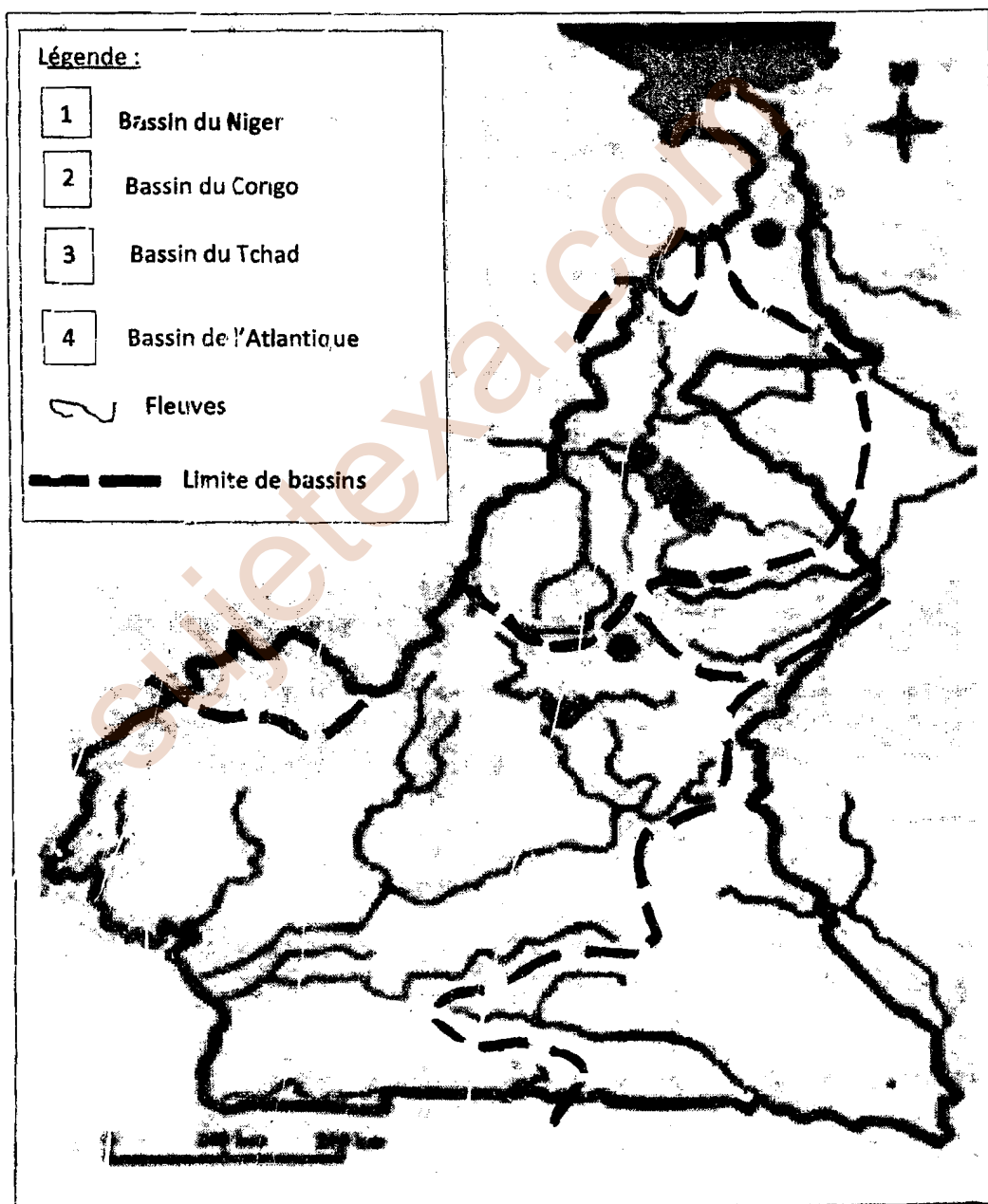
COLLEGE F. X.VOGT		Année scolaire 2021-2022
DEPARTEMENT D'HISTOIRE- GEOGRAPHIE	CONTROLE	DATE : 25 Septembre 2021
<b>EPREUVE DE GEOGRAPHIE</b>		
Niveau : T <sup>les</sup> A, SES	Durée : 2H	Coef :

**PARTIE A : L'EVALUATION DES RESSOURCES**

I. Présente l'organisation socioculturelle des semi-bantou au Cameroun, dans une production cohérente de 10 à 15 lignes. 5pts

II. Localise sur la carte du Cameroun ci-dessous :

- a. Les bassins hydrographiques (0,25x4 = 1pt)
- b. Les fleuves : Bénoué et Sanaga (0,5x2 = 1pt)
- c. Montre l'influence de l'hydrographie sur l'économie camerounaise (1x2 = 2pts)

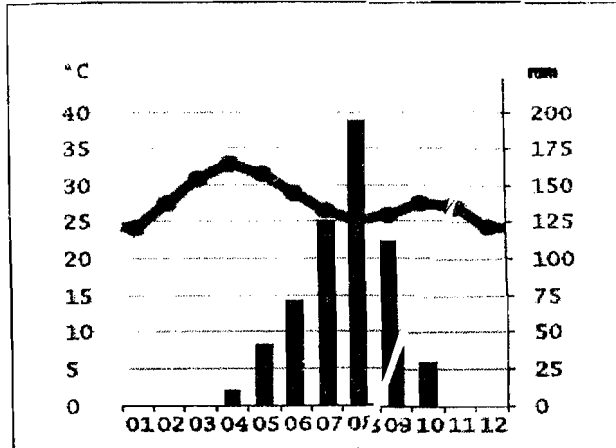


## **PARTIE B: L'EVALUATION DE L'AGIR-COMPETENT/ DES COMPETENCES.**

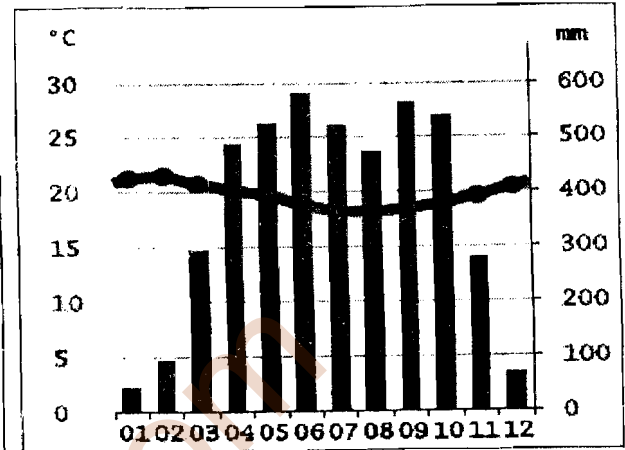
Thème : La promotion du développement intégré.

### **a. Documents :**

#### **Document 1: Les climats au Cameroun.**



Le diagramme ombrothermique de Maroua



Le diagramme ombrothermique de Dschang

Source : [www.Data.climate.cm](http://www.Data.climate.cm)

#### **Document 2: la végétation diversifiée du Cameroun.**

La végétation est influencée par les deux grands domaines climatiques, c'est pourquoi on a deux domaines de végétation : Le domaine Tropical : La végétation caractéristique de celui-ci est la savane. Les variations climatiques donnent à celle-ci plusieurs aspects : La savane arbustive et arborée : elle couvre le plateau de l'Adamaoua. Elle est formée d'un tapis continu de graminée qui surgissent par endroits, des petits massifs d'arbustes et d'arbres. Cette dernière est en partie dégradée par l'action de l'homme par des feux de brousse, des cultures et le surpâturage des troupeaux. La savane boisée et les forêts : elle pousse dans la cuvette de la Bénoué; ce sont des tapis de graminées où la densité des arbres (baobab, acacia, palmier) est très faible. Les arbres sont séparés par des surfaces herbeuses de plus en plus étendues. Dans la vallée du Logone, inondée pendant une partie de l'année, pousse une prairie.

Le domaine Equatorial : La forêt dense humide est le principal caractère écologique de cet écosystème. La végétation est entendue comme l'ensemble des groupements végétaux d'une aire géographique. Elle est caractérisée par sa physionomie et sa structure. Ces caractéristiques sont étroitement liées aux caractères physiques du milieu dont le climat en est le principal. A l'observation, il apparaît d'ailleurs une correspondance forte entre les limites des types de climat. La végétation est la forêt dense. La forêt dense ombrophile recouvre l'ensemble du plateau Sud-camerounais et les basses terres côtières. La destruction de la forêt dense par le feu et les défrichements laisse place à une forêt secondaire. On y trouve aussi des galeries forestières le long des cours d'eau ; au contact de la mer, elle se transforme en mangrove

Source : Jean CRIAUD, Géographie du Cameroun et de l'Afrique, nouvelle édition 1992

### **Document 3 : La variété du relief.**

Le relief camerounais, peut être schématiquement divisé en quatre grands ensembles, organisés autour de la dorsale camerounaise, ensemble de hauts sommets disposés en ligne, et courant d'est en ouest, qui culminent au Mont Cameroun, au bord de l'Océan atlantique. Les basses terres du Nord sont globalement divisées en deux par les retombées des Monts Mandara: les plaines inondables des Yayrès et la plaine du Diamaré rejoignent les plaines du Tchad, tandis que plus au sud, la Cuvette de la Bénoué s'encaisse entre des plateaux et des massifs granitiques ou volcaniques.

Le plateau sud-camerounais, d'une altitude comprise entre 650 et 900 mètres, couvre environ le tiers de la superficie du pays, de l'est, au sud, encadrant une étroite plaine littorale. Relief monotone ponctué de quelques rares inselbergs autour de Yaoundé, il s'incline faiblement en direction de la cuvette congolaise. Les plaines côtières, d'une profondeur maximale de 360 km; elles s'étendent le long de la frontière nigériane au nord-ouest (cuvette de Mamfé), se rétrécissent aux abords du Mont Cameroun, s'évasent dans le bassin sédimentaire de Douala, et se prolongent en un mince cordon jusqu'à la frontière de la Guinée équatoriale.

Source : [www.techno-science.net](http://www.techno-science.net).

#### **b. Consignes:**

Les documents ci-dessus présentent les caractéristiques physiques du Cameroun. Rédige une production cohérente dont les grandes lignes reposent sur les tâches suivantes :

- 1- Présente les caractéristiques des climats qui règnent au Cameroun. **3pts**
- 2- Montre que la végétation est influencée par le climat. **3pts**
- 3- Propose deux actions concrètes permettant au Cameroun d'asseoir son développement à partir des variétés naturelles de son milieu physique. **3pts**

**Présentation : 2pts**