

N° de Table

Signature du Surveillant

Lw fap

Anonymat (Ne rien écrire ici)

Anonymat (Ne rien écrire ici)

Épreuve d'Informatique

PREMIÈRE PARTIE : ÉVALUATION DES RESSOURCES (09pts)

1. Définir les termes : 1pt x 2 = 2pts

Dossier :

Extension :

2. Compléter le tableau ci-dessous en donnant **deux (02)** types de fichiers avec exemple de format et d'extension. 0.5pt x 6 = 3pts

Type de fichier	Extensions	Format de fichier

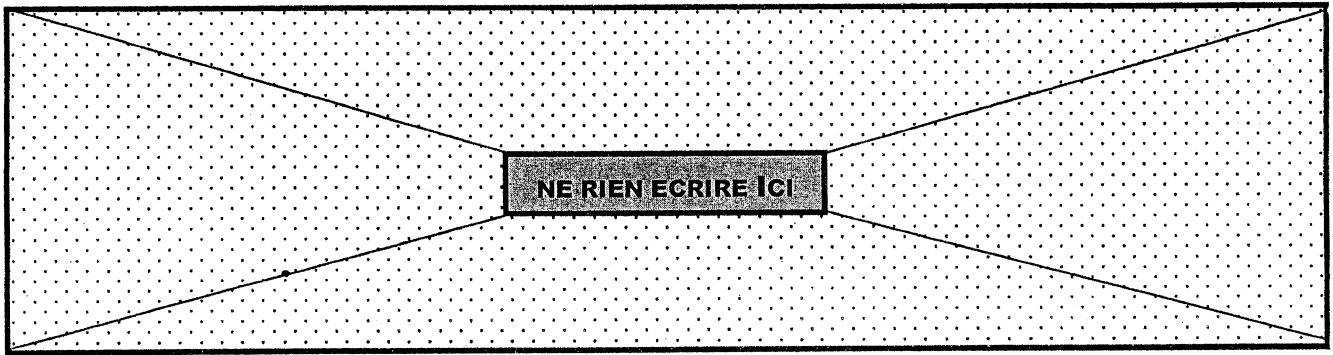
3. Citer **deux (02)** actions que l'on peut effectuer dans un ordinateur pour améliorer ses performances et/ou augmenter ses fonctionnalités. 1pt

4. Répondre par **VRAI** ou **FAUX** 0.5pt x 2 = 1pt

a. On peut obtenir **gratuitement** tous les logiciels sur Internet.

b. Une **clé USB** a plus d'espace de stockage qu'un **CD-ROM**.

5. Expliquer en quelques mots l'expression "**Mise à jour en ligne**". 1pt



6. Observer les **deux (02)** images ci-dessous puis nommer chacune d'elles.

0.5pt x 2 = 1pt





Image 1 :



Image 2 :

DEUXIÈME PARTIE : ÉVALUATION DES COMPÉTENCES (11pts)

Activité 1 : Connaissance d'un ordinateur et autres équipements informatiques

/8pts

Dans un magasin de vente des accessoires informatiques, votre petit frère et vous admirez les éléments suivants exposés dans **deux (02)** vitrines A et B.



- Déterminer le nom qu'on donne à l'ensemble des composants présentés respectivement dans les deux vitrines parmi ceux proposés : **composants internes, périphériques, supports de stockage, CPU**

Vitrine A : 1pt

Vitrine B : 1pt

- Vous décidez, ton frère et toi de demander comme cadeau de Noël un ordinateur avec quelques éléments optionnels de la **vitrine B**.

Donner le nom de chacune des images de cette vitrine

0,25ptx4=1pt

.....
.....
.....
3. Identifier puis énumérer pour chacune des images ci-haut **une (01) caractéristique très importante**
sur laquelle vous y tenez à l'achat. **(0.5pt + 0.5pt = 1pt) x 5 = 5pts**

Image 1 :

Image 3 :

Image 4 :

Image 2 :

Image 6 :

Activité 2 : Protection logicielle d'un ordinateur

/3pts

Vous faites découvrir votre joli cadeau à vos amis qui n'hésitent pas d'utiliser chacun à son tour l'élément de **l'image 5**. Quelques jours plus tard, vous insérez aussi le vôtre qui contient quelques jeux et les devoirs saisis dans M. S. Word. En explorant le contenu de votre élément, vous constatez que certains fichiers ont été transformés en raccourci. Par ailleurs, vous n'arrivez plus à ouvrir ceux qui sont encore là.

1. Donner l'origine de ce dysfonctionnement

1pt

2. Proposer à votre père ce qu'il doit faire pour la protection de votre ordinateur et de vos travaux.

1pt

3. Énumérer **deux (02)** exemples bien précis.

0.5pt x 2 = 1pt