

OK
AD

68

Collège « La Gaieté »
« La marche Vers l'Excellence »

Année Scolaire 2019/2020
BAC BLANC
Session de mars 2020
Coef : 2 Durée : 2h

Épreuve de Géographie

L'élève traitera au choix l'un des sujets suivants :

SUJET 1 :

Les plaines du Nord et les Monts Mandara : Étude physique et économique.

L'élève insistera sur le relief, le climat et la végétation d'une part ; et sur l'élevage, l'agriculture et le transport d'autre part.

Sur la carte ci-dessous :

1. Complétez la légende
2. Identifiez deux cours d'eau
3. Identifiez une zone inondable

Barème :

Introduction : 3 pts

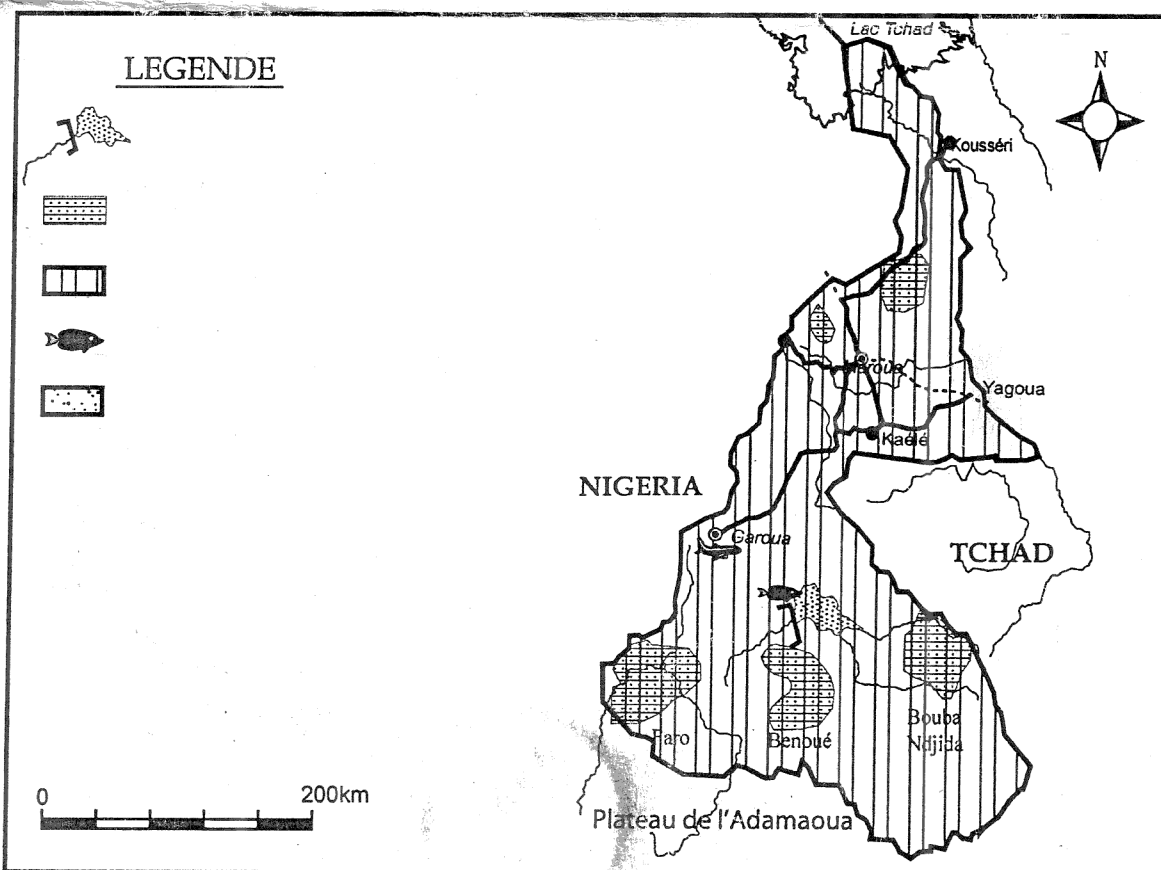
Développement :

- Connaissances : 4 pts
- Organisation des idées : 2 pts
- Argumentation et exemples : 2 pts

Conclusion : 3 pts

Carte : 4 pts

Présentation : 2 pts



SUJET 2 : LES ÉTATS-UNIS D'AMÉRIQUE

a) Documents

Document 1 : Les productions agricoles

Le palmarès des États-Unis est impressionnant. Ils sont largement en tête dans le monde pour les produits de l'élevage, les fruits, les agrumes. Ils suivent de près l'URSS pour l'ensemble des céréales et le coton. Seuls leur manquent le thé et diverses plantes tropicales comme l'Hévéa ou le cacao qu'ils doivent importer. Les céréales, les fruits et les produits de l'élevage constituent d'importantes importations [...]. Les grandes régions agricoles sont situées à l'Est. Aux abords des Grands Lacs, l'élevage laitier et des cultures maraîchères assurent le ravitaillement des villes. Au Sud, le climat est plus chaud. Le blé vient bien ainsi que le maïs et le soja, nourriture de grands troupeaux de porcs et de bovins. Là sont les plus grands abattoirs du pays. Autour du Golf du Mexique enfin, le climat encore plus chaud permet la culture des plantes tropicales. C'est pour les plantations de coton qu'on fit venir des esclaves noirs au 18^{ème} siècle [...]. Les régions occidentales sont moins favorisées en dehors de quelques vallées irriguées. Une exception : la façade pacifique. Au Nord, l'élevage laitier est l'activité principale. Au Sud, le climat plus chaud de la Californie lui vaut ses vergers, des cultures maraîchères et des champs de coton. Mais l'irrigation est nécessaire en été ; les pluies apportées par les vents d'Ouest sont des pluies de saison froide principalement.

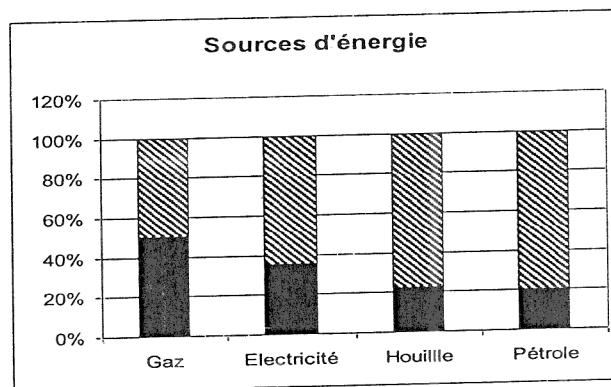
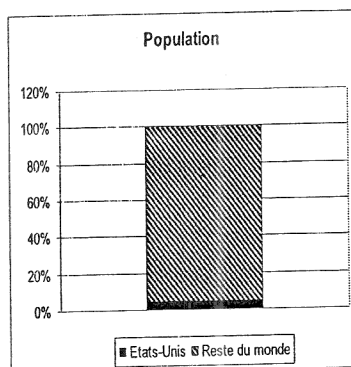
Thèmes et Documents de Géographie, H. Jover et M. Diridollou PP 72-73.

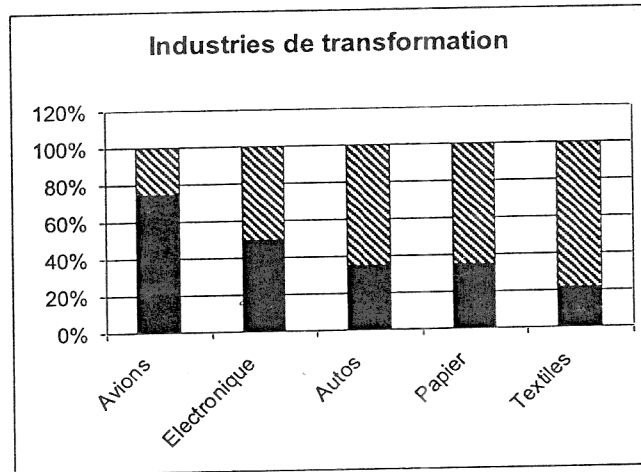
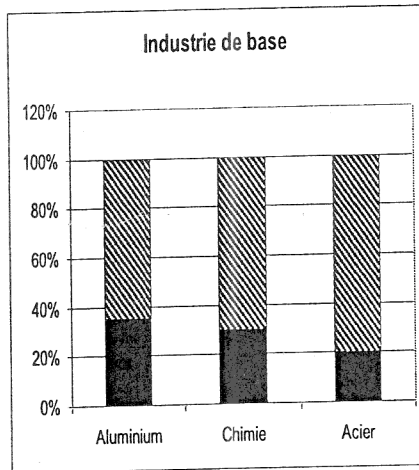
Document 2 : Les contraintes physiques du milieu

L'Ouest américain est un espace de fortes contraintes climatiques dont la principale est l'aridité. Cette dernière concerne les plateaux situés entre les Montagnes Rocheuses et les chaînes du Pacifique (Sierra Nevada, chaînes côtières du Pacifique et chaîne des Cascades). Ces régions sont des zones désertiques ou semi-désertiques liées à leur position d'abri. Au total, la superficie des déserts américains est de 800 000 km² soit 1,5 fois la taille de la France. Pourtant, les zones arides possèdent des îlots de peuplement dense et l'on y trouve plusieurs agglomérations de plus d'un million d'habitants (Las Vegas, Tucson, Phoenix). Les sols sont divers (solonetz marqué par la salinité autour du Grand Lac Salé, dans la Vallée de la Mort) [...]. Les sols n'ont presque pas de litière et n'ont que peu d'humus. Les cours d'eau sont souvent temporaires et endoréiques.

Microsoft ® Encarta ® 2015.

Document 3 : La première industrie du monde





Thèmes et Documents de Géographie, H. Jover et M. Diridollou P. 7.

b) Travail à faire

En vous inspirant des questions ci-après, vous ferez un commentaire des documents proposés.

1. Présentez les documents. Quelle est leur idée générale ?
2. Présentez brièvement les différents produits agricoles des États-Unis d'Amérique et expliquez l'influence des facteurs naturels dans la répartition des activités agricoles.
3. Tous le pays est-il propice au développement des activités agricoles ? Justifiez votre réponse.
4. Pourquoi l'industrie des États-Unis d'Amérique est si rayonnante ?
5. Quelles sont les faiblesses de l'agriculture et de l'industrie des États-Unis d'Amérique ?

SUJET 3 :

Les villes du Tiers-monde et les villes des pays développés. Étude comparative.

Barème des sujets II et III :

Introduction : 3 pts

Développement :

- Connaissances : 8 pts
- Organisation des idées : 2 pts
- Argumentation et exemples : 2 pts

Conclusion : 3 pts

Présentation : 2 pts