

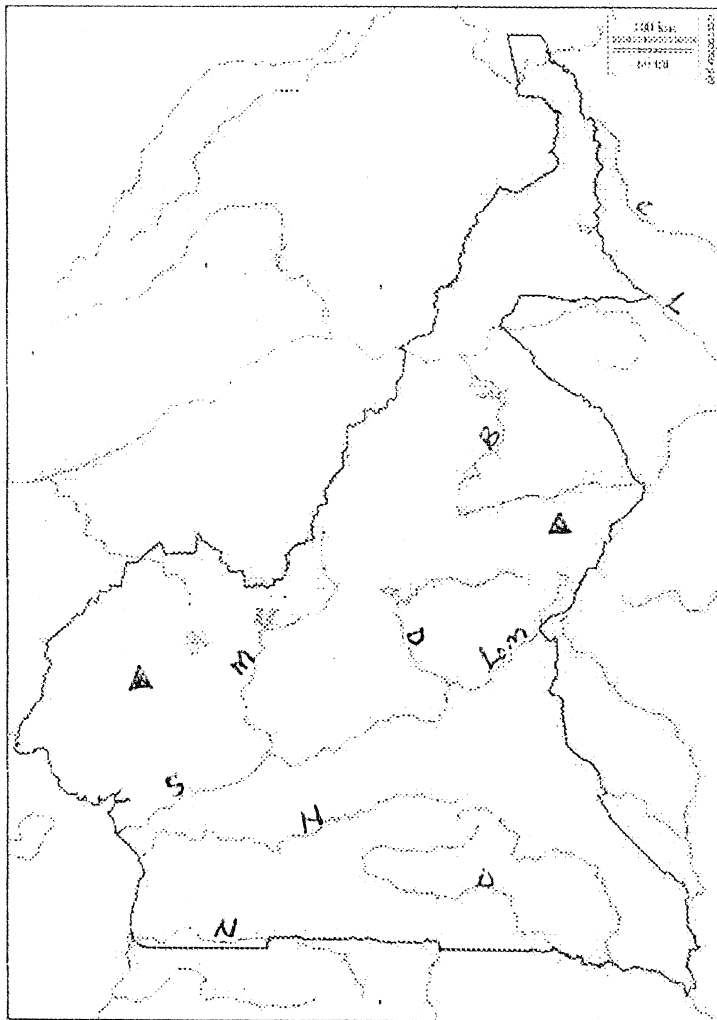
DEVOIR HARMONISE DE GEOGRAPHIE DU 26/10/2020

PARTIE A. LA VERIFICATION DES RESSOURCES : 9 pts

A1. LA VÉRIFICATION DES SAVOIRS : 5 Pts

Dans une production cohérente de maximum 15 lignes, présente brièvement l'organisation du relief du Cameroun.

A2. LA VÉRIFICATION DES SAVOIR-FAIRE : 4 Pts



Légende

Sur le fond de carte ci-contre :

1. Identifie deux grands fleuves du Cameroun. 0,5x2=1pt
2. Localise le mont Cameroun et les monts mandara. 0,5x2=1pt
3. Localise les deux grands types de végétation.

II. LA VERIFICATION DE L'AGIR-COMPETENT 9PTS

Palier de compétences : La promotion du développement intégré.

A. DOCUMENTS

Document 1 : Un pays de la zone chaude

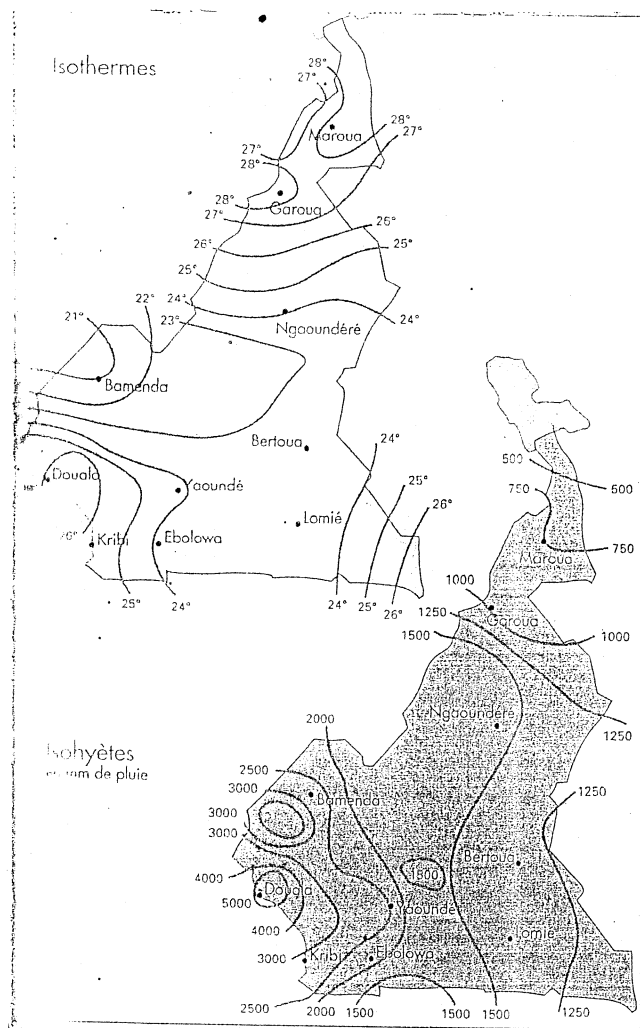
Compris entre le 2° et 13° parallèle nord, le Cameroun baigne entièrement dans le domaine des climats chauds où aucun mois n'a une moyenne thermique inférieure à 20°C... A mesure que l'on s'éloigne de

l'Equateur, la même quantité de chaleur provenant du rayonnement solaire, se répartit sur une surface plus grande, de sorte que la quantité de chaleur distribuée sur une même surface diminue. Toutefois, l'apport calorifique est plus grand vers le 13° parallèle, latitude du nord Cameroun, en raison de la forte insolation et de la faible nébulosité dans les régions voisines du tropique de Cancer.


Source : MELINGUI A. et al. Nouvelle Géographie 3°, Edicef, Paris, 1993, P. 72

Document 2. Températures et précipitations

Document 3 : l'exploitation des ressources bioclimatiques



Feux de brousse dans une savane près de Ngaoundéré



Exploitation forestière au nord de Yaoundé

Source : MELINGUI A. et al. Nouvelle Géographie 3°, Edicef, Paris, 1993, P. 72

Source : MBONO SAMBA. et al. Géographie, le Cameroun, l'Afrique et le Monde, Hatier, P.30

B. CONSIGNE DE TRAVAIL : Les documents ci-dessus présentent les contrastes climatiques au Cameroun. Ces contrastes sont à l'origine de la diversité des ressources bioclimatiques, qui bien exploitées peuvent contribuer au développement du pays. Rédige une production cohérente dont les grandes lignes reposent sur les tâches suivantes.

1. Présente deux causes des contrastes climatiques au Cameroun. 3pts
2. Décris deux caractéristiques de chaque domaine climatique. 3pts
3. Propose deux actions concrètes pour que l'exploitation des ressources bioclimatiques du Cameroun tienne compte des exigences du développement durable concernant la protection de la biodiversité. 3pts

Présentation : 2 pts