



Classe : 1 ^{ière}	Epreuve de : GEOGRAPHIE	Durée : 2H
		Coef : 2

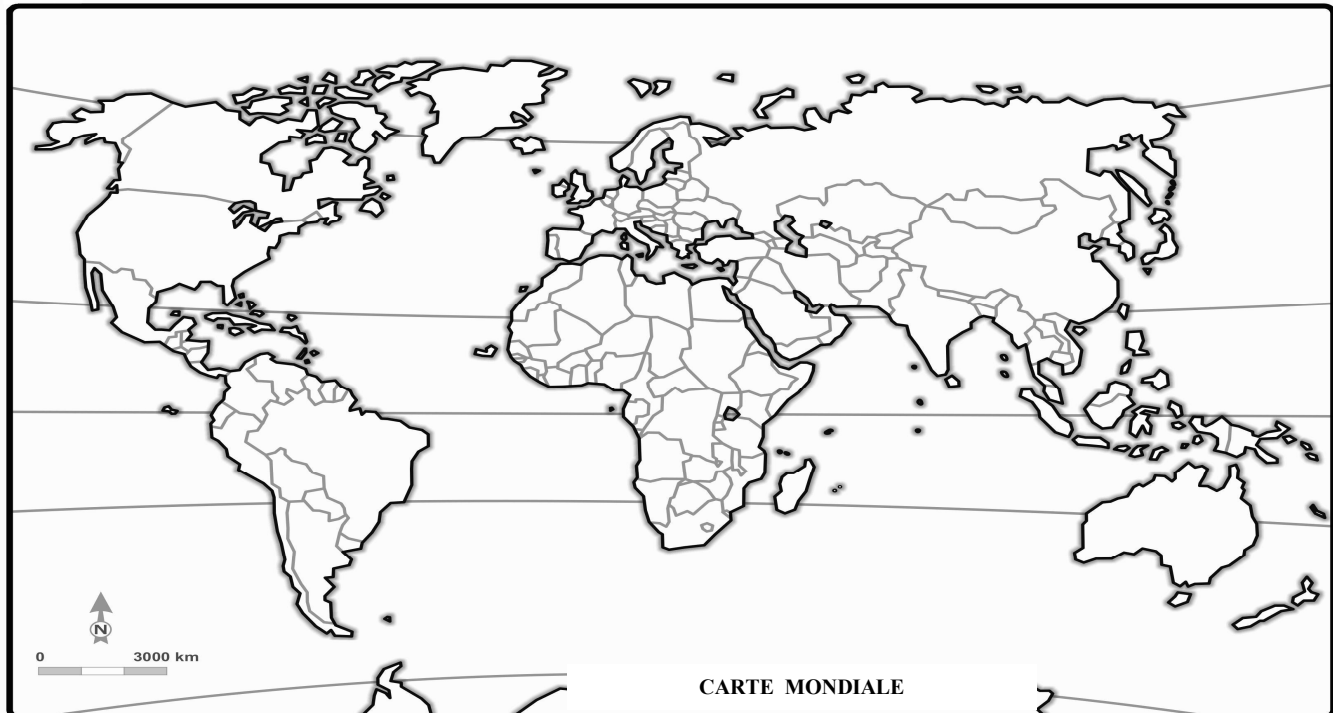
PARTIE A : LA VERIFICATION DES RESSOURCES (4.5PTS)

A1 : Vérification des savoirs

Définit la transition démographique et présente ses différentes phases

2.5pts

A 2 : la vérification des savoir-faire



Travail à faire :

- 1) A l'aide des techniques cartographiques, représente : le premier foyer de peuplement, le pays le plus peuplé d'Afrique, et une zone « vide ». 1.5pts
- 2) Avec une population estimée à environ trois millions d'habitants, la ville de Douala s'étale sur 210km². Calcule sa densité. 1pt

PARTIE B : LA VERIFICATION DE L'AGIR COMPETENT : (13.5pts)

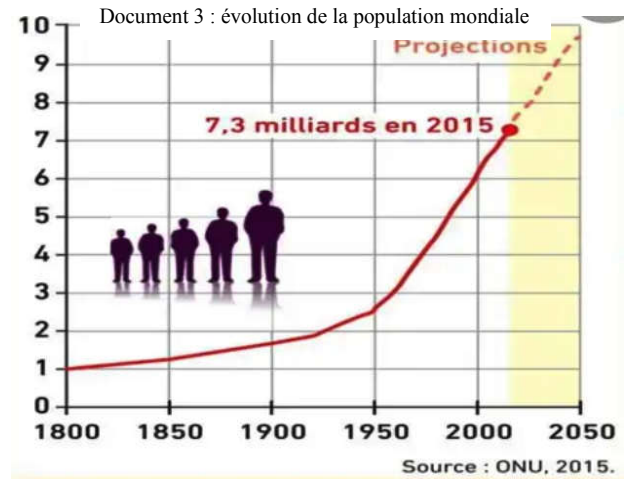
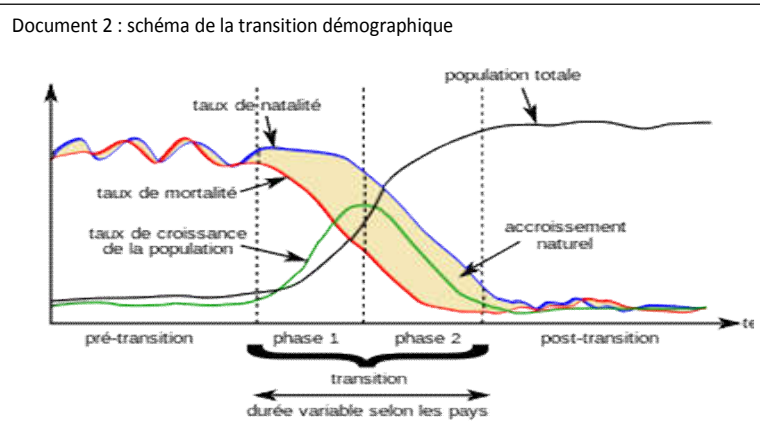
MAITRISE DE LA CROISSANCE DEMOGRAPHIQUE

Les supports :

Document1 : l'enjeu démographique

Dès 1948, la conférence générale de l'UNESCO reconnaissait que le monde de l'après guerre aurait à affronter trois grands types de problèmes : le nationalisme, les obstacles au progrès technique et la croissance démographique. Le premier directeur général de l'UNESCO, Julian Huxley, devait conclure : « d'une manière ou d'une autre, il faudra équilibrer la population et les ressources, ou bien la civilisation disparaîtra ».

D'après *Le Courrier de l'UNESCO*, janvier 1992



Consigne :

Les documents ci-dessus évoquent un problème que connaît le monde. Rédige une production d'une page s'appuyant sur les tâches ci-après.

- 1- Présente le problème dont il est question et donne ses causes 4.5pts
 - 2- Explique la citation de Julian Huxley et donne deux conséquences de ce problème 4.5pts
 - 3- Propose trois solutions efficaces pour maîtriser la croissance démographique 4.5pts
- Présentation 2pts**