

Exercice : (Caen 99)

Un cône a pour base un disque de 6 cm de rayon et pour hauteur 15 cm.

1. Calculer son volume V en cm^3 (en donner la valeur exacte, exprimée en fonction de π).

2. On réalise une maquette du cône à l'échelle $\frac{2}{5}$.

Calculer le volume V' de cette maquette, arrondi au cm^3 .

Correction :

1)

$$V = \frac{1}{3}Bh = \frac{1}{3}\pi R^2 h = \frac{1}{3}\pi \times 6^2 \times 15 = 180\pi$$

2)

$$V' = \left(\frac{2}{5}\right)^3 \times V$$

$$V' = \frac{8}{125} \times 180\pi$$

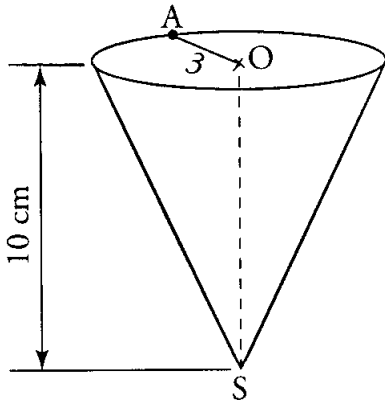
$$V' = 11,52\pi$$

$$V' \approx 36\text{cm}^3$$

Exercice : (Lille 97)

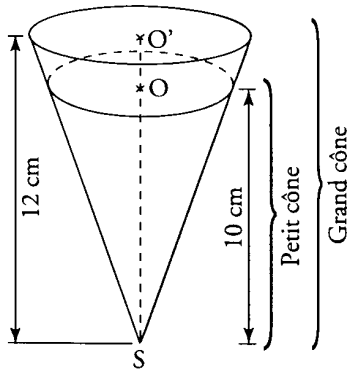
Un cornet de glace appelé « petit cône » a la forme d'un cône de hauteur $SO = 10$ cm, de rayon de disque de base $OA = 3$ cm.

La représentation en perspective est donnée ci-contre.



1) Démontrer que le volume exact de glace contenue dans le « petit cône » (celui-ci étant rempli) est $30\pi \text{ cm}^3$.

2) Pour l'été, l'entreprise décide de fabriquer des « grands cônes », la hauteur d'un « grand cône » étant de 12 cm.



a) Le «grand cône» étant un agrandissement du « petit cône », calculer l'échelle d'agrandissement.

b) En déduire que le volume du « grand cône » est $51,84\pi \text{ cm}^3$.

c) Quelle quantité de glace supplémentaire a-t-on lorsqu'on achète un « grand cône» plutôt qu'un « petit cône » ?

On donnera la valeur exacte du résultat puis une valeur approchée à 1 centilitre près.

Correction :

1) Soit V le volume du "grand cône".

$$V = \frac{1}{3} Bh = \frac{1}{3} pR^2 h = \frac{1}{3} p \times 3^2 \times 10 = 30p \text{ cm}^3$$

2)

a)

L'échelle d'agrandissement est de $12 : 10 = 1,2$

b) Soit V' le volume du "petit cône".

$$V' = 1,2^3 \times V$$

$$V' = 1,728 \times 30p$$

$$V' = 51,84p \text{ cm}^3$$

c)

$$V' - V = 51,84\pi - 30\pi = 21,84\pi$$

$$V' - V \approx 68,6 \text{ cm}^3$$

Lorsqu'on achète un « grand cône» plutôt qu'un « petit cône », on achète $68,6 \text{ cm}^3$ de glace supplémentaire.

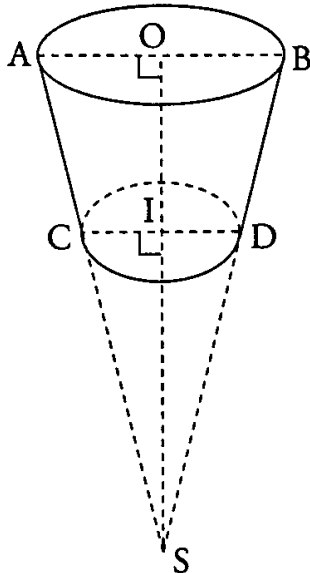
Exercice _____ : (caen 98)

Un panier a la forme d'un tronc de cône dont les bases ont pour diamètres les segments [AB] et [CD], situés dans un même plan.

Le petit cône de sommet S et de disque de base de rayon [IC] est une réduction du grand cône de sommet S et de disque de base de rayon [OA].

Il est inutile de reproduire la figure ci-dessus, représentant un tronc de cône.

On donne : $AB=30\text{cm}$ $CD = 20\text{ cm}$



1. a) Démontrer, à partir des indications portées sur la figure, que les droites (AO) et (CI) sont parallèles.

b) Démontrer que $\frac{SI}{SO} = \frac{2}{3}$

2.a) Calculer le volume V_2 du petit cône en fonction du volume V_1 du grand cône.

b) Montrer que le volume V du tronc de cône est :

$$V = \frac{19}{27}V_1.$$

Correction :

1)a)

Les droites (AO) et (CI) sont toutes deux perpendiculaires à la droite (OI) donc elles sont parallèles entre elles.

b)

1) Les triangles SCI et SAO sont tels que :

A,B,F et A,C,E sont alignés et $(AO) \parallel (CI)$.

D'après le théorème de Thales, on a :

$$\frac{SC}{SA} = \frac{SI}{SO} = \frac{CI}{AO}$$

$$\frac{SI}{SO} = \frac{CI}{AO}$$

$$\frac{SI}{SO} = \frac{10}{15} = \frac{2}{3}$$

2) a) Puisque $\frac{SI}{SO} = \frac{2}{3}$, le coefficient de réduction pour passer du grand cône au petit cône est de $\frac{2}{3}$

$$V_2 = \left(\frac{2}{3}\right)^3 \times V_1$$

$$V_2 = \frac{8}{27} \times V_1$$

b) le volume V du tronc de cône est :

$$V = V_1 - V_2$$

$$V = V_1 - \frac{8}{27} \times V_1$$

$$V = \frac{27}{27} V_1 - \frac{8}{27} V_1$$

$$V = \frac{19}{27} V_1$$

Exercice _____ : (Rennes 1995) (5 points)

Un objet transparent a la forme d'un cône. Sa hauteur est 10 cm.

Le rayon de sa base est 5 cm.

1) Quel est son volume arrondi au cm^3 près ?

2) Il est rempli d'un liquide coloré. Au repos, le cône est posé sur sa base : la hauteur du liquide dans le cône est 4 cm.

a) Faire un schéma.

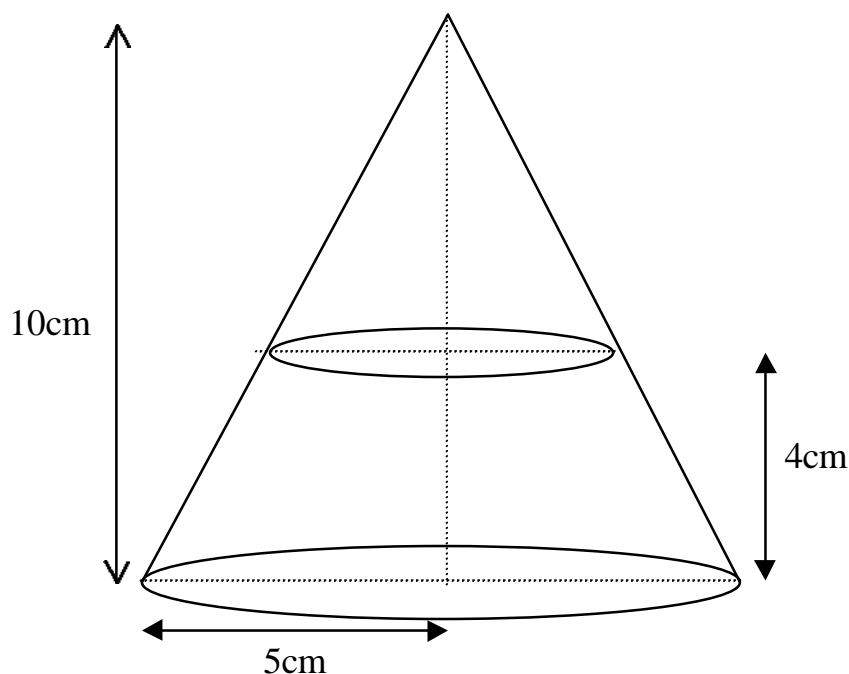
b) Quel est le volume du liquide arrondi au cm^3 près ?

Correction :

1) Soit V le volume du cône :

$$V = \frac{1}{3} Bh = \frac{1}{3} \pi R^2 h = \frac{1}{3} \pi \times 5^2 \times 10$$

$$V = \frac{250}{3} \pi \approx 262 \text{ cm}^3$$



2)

b) Soit V' le volume du "petit cône" (la partie du cône ne contenant pas de liquide).

Appelons V_l le volume du liquide.

On a $V_l = V - V'$.

Or le petit cône est une réduction du grand cône. Le coefficient de réduction est :

$$\frac{10-4}{10} = \frac{6}{10} = \frac{3}{5}$$

$$V' = \left(\frac{3}{5}\right)^3 \times V$$

$$V' = \frac{27}{125} \times \frac{250}{3} \mathbf{p}$$

$$V' = 18\mathbf{p}$$

$$V_l = V - V'$$

$$V_l = \frac{250}{3} \mathbf{p} - 18\mathbf{p}$$

$$V_l \approx 205 \text{ cm}^3$$

Le volume du liquide est de 205 cm^3 environ.