

KBH 1
UAP. Ms

MINI SESSION N°3 : EPREUVE DE GEOGRAPHIE

Durée : 2H

coef: 2

Ne rien écrire ici

INTITULÉ DE LA COMPÉTENCE VISÉE :

Ne rien écrire ici

APPRECIATION AU NIVEAU DE LA COMPÉTENCE (à cocher absolument)

Non acquis	En cours d'acquisition	Acquis

NOTE DE L'ÉVALUATION

NOTE TOTALE

PARTIE 1 :

PARTIE 3 :

PARTIE 2 :

PARTIE 4 :

VISA DU PARENT OU DU TUTEUR :

NOMS & PRÉNOMS :

DATE : Tél :

OBSERVATIONS DU PARENT :

Signature

EPREUVE DE GEOGRAPHIE

I- VÉRIFICATION DES RESSOURCES

A) Vérification des savoirs

1) Définis :

igration:.....1pt

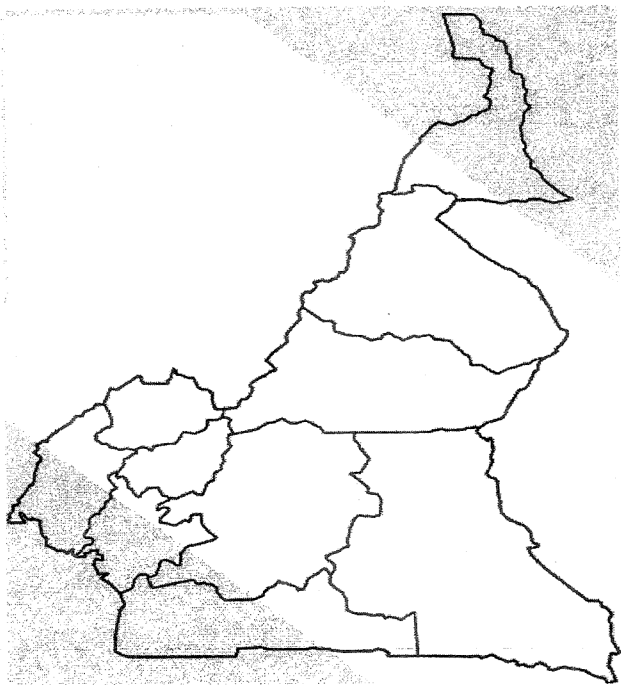
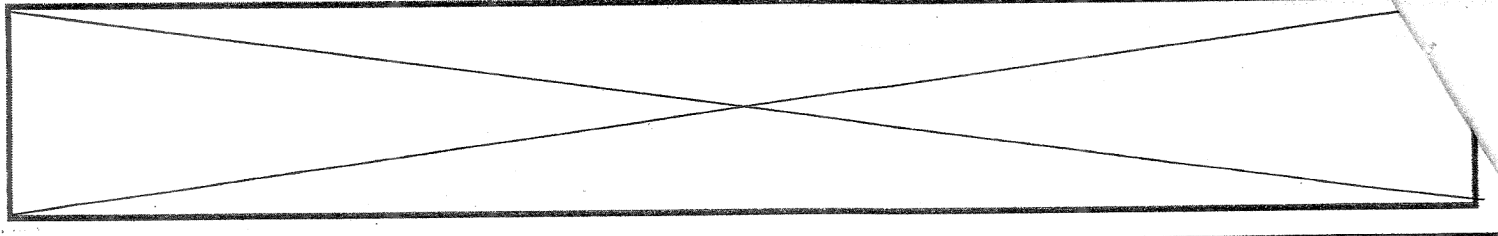
ramide des âges :1pt

2) Cite 02 conséquences de la destruction de la mangrove. 1pt

3) Donne 02 avantages d'une population jeune. 1pt

B) Vérification des savoir-faire

1- Sur le fond de carte du Cameroun ci-joint, localise respectivement par des hachures et des pointillés 02 régions de fortes densités et 02 régions de faibles densités. 2pts



2- Remplis le tableau ci-dessous en faisant correspondre les problèmes environnementaux à leur solution dans la liste suivante.

Couper le bois- curer les rigoles- planter les arbres- construire les barrages- pratiquer des cultures en terrasse- mettre le feu aux forêts- aménager des champs fourragers

Problèmes environnementaux	Solutions
Déforestation	
Erosion	
Surpâturage	

3- Dans la liste suivante, souligne les groupes ethniques présents au Cameroun.

Hamites- Foulbés- Ethiopides- Arabes- pygmées- sémites- Bantous

II- LA VERIFICATION DES COMPETENCES


Situation problème : La forte consommation du riz importé par les populations de ton village entraine l'affaiblissement de la riziculture locale. Tu es interpellé pour protéger les producteurs de riz de ton village.

Document 1 : Les facteurs de développement de l'agriculture

Au Cameroun, la variété des milieux naturels (équatorial, tropical humide et soudano-sahélien), des sols (terres volcaniques, plaines alluviales,...) et des habitudes alimentaires favorisent le foisonnement des cultures, tandis que la croissance démographique et l'urbanisation galopante stimulent le secteur agricole, notamment le développement de ceintures maraichères et légumières autour des villes.

Document 2 : Les principaux produits alimentaires importés

Les principales importations à cette période ont été constituées des hydrocarbures, du riz, des poissons congelés ainsi que des céréales. Les achats du Cameroun en 2017 se sont élevés à 2971,4 milliards de francs CF pour 7,6 millions de tonnes de marchandises importées. révèle la note de conjoncture du commerce extérieur du pays publiée par l'Institut national de la statistique (INS) au premier trimestre de l'année en cours. Cela représente 4,81%



Consignes : Effectue les tâches ci-après

1- Présente le problème évoqué dans la situation ci-dessous

.....

.....

.....

2- Relève dans les documents 02 facteurs de développement de l'agriculture. 3pts

.....

.....

.....

.....

3- Donne 02 actions que tu mèneras afin d'accroître la consommation de la production du riz Camerounais. 3pts

.....

.....

.....

.....

Perfectionnement / 2pts