

Collège de la Paix de Foumban		Département d'Histoire-Géo-ECM		Epreuve : Géographie	
Trimestre II	2019/2020	Classes : Premières ACD		Coef :	Durée : 2heures

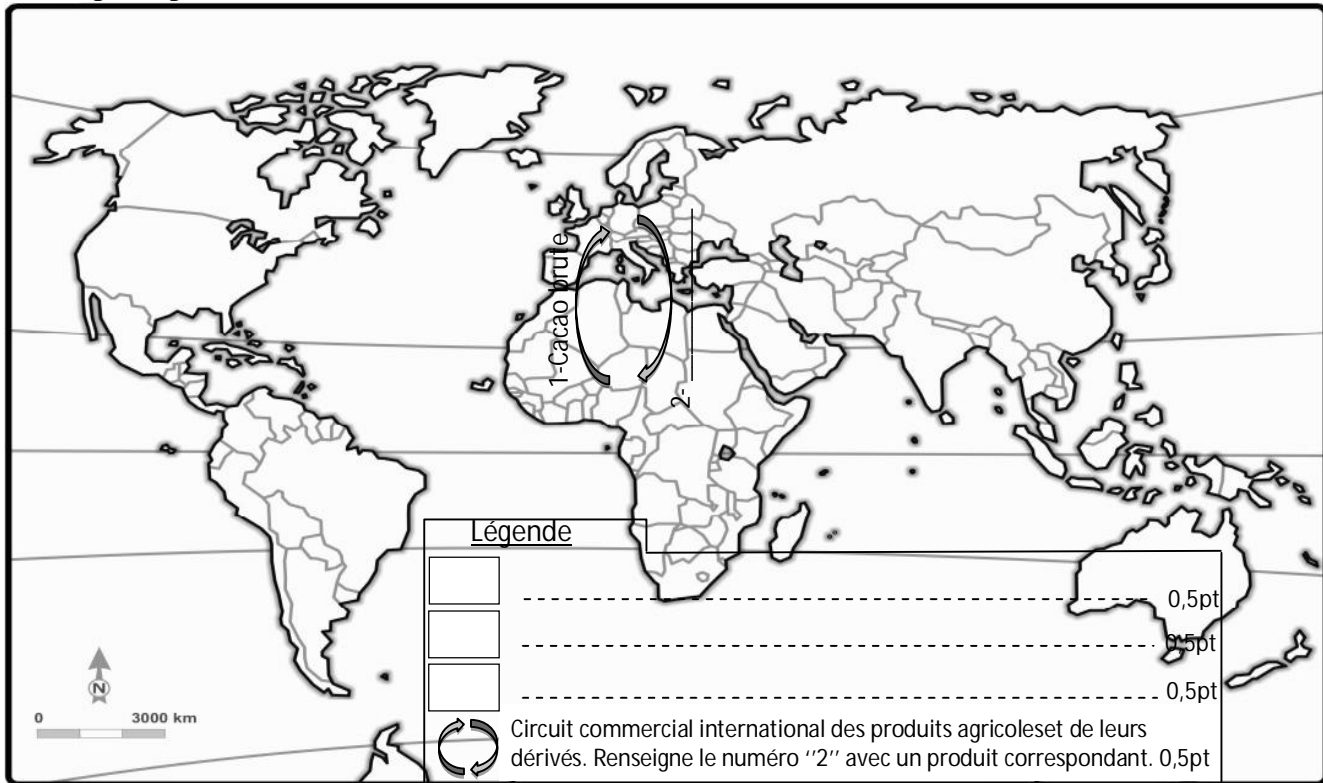
Partie 1 : La vérification des ressources (9pts)

A : la vérification des Savoirs (4pts)

1. Après avoir définis l'expression élevage traditionnel, explique clairement pourquoi cette activité est salvatrice pour de nombreuses populations pauvres du monde (deux arguments).

B : la vérification des Savoir-Faire (5pts)

Soit le planisphère ci-dessous.



Travail à faire

- 1) Sur le planisphère :
 - a) Localise un pays où domine l'agriculture de subsistance (utilise les hachures Verticales) **0,75pt**
 - b) Localise un pays dans lequel l'agriculture est principalement scientifique (utilise les hachures horizontales) **0,75pt**
 - b) Localise deux pays victimes de la confiscation des terres par les multinationales (utilise les pointillés) **0,75pt x 2**
- 2) Complète la légende. **2pts**

PARTIE 2 : VÉRIFICATION DE L'AGIR-COMPÉTENT (9pts)

Thème : la maîtrise de la croissance urbaine

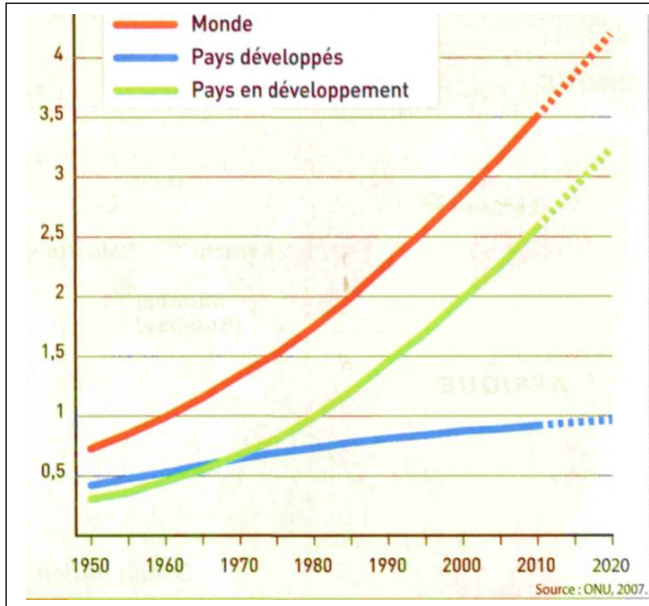
Document 1 : La croissance urbaine dans les pays en développement

Dans une grande partie du monde en développement, l'exode rural se poursuit, alimentant une très forte croissance urbaine : c'est surtout le cas en Asie. Ici se produit un mouvement d'une ampleur sans précédent qui par des dizaines de millions, conduit des ruraux en ville. Généralement c'est la misère des campagnes, confrontées au trop plein de population, en raison d'un fort accroissement démographique qui est à l'origine des croissances urbaines très fortes. Dans la réalité les villes des pays en voie de développement n'offrent pas un nombre d'emploi en rapport avec l'afflux des ruraux : d'où l'importance des populations sans emploi et le développement d'une économie informelle, faite de petits métiers, qui n'autorisent que la survie dans des conditions très précaires de masses importantes de populations urbaines. On estime que près de 600 millions n'ont pas de logements décentes et vivent dans un état de dénuement total.

Knafou R., *Géographie 2^{de}, occuper et aménager la terre* ; 2011, Paris, Belin, P168

Document 2 : La croissance urbaine dans le monde

Document3 : les problèmes urbains dans les grandes villes du Cameroun




Nos deux principales métropoles, Yaoundé et Douala, comptent à ce jour respectivement environ 2,3 et 2,5 millions d'habitants, soit 21,3% de la population totale et 43,7% de la population urbaine aujourd'hui contre 36% en 1987.

Mais la croissance de ces deux villes ainsi que celle des autres villes du Cameroun ne va pas de pair avec le développement économique, ce qui a pour conséquence la progression de la pauvreté urbaine. La pauvreté urbaine est à l'origine de nombreux dysfonctionnement dans la gestion et la maîtrise du développement urbain et l'extension d'un habitat indécent et anarchique dans l'essentiel des zones urbaines.

www.minhdu.gov.cm, consulté le 29-02-2020

Document 4



www.minhdu.gov.cm, consulté le 29-02-2020

Consigne :

Les documents ci-dessus évoquent un phénomène en progression à travers le monde. Rédige une production cohérente d'une page en t'appuyant sur les tâches ci-après :

- 1- Présente le phénomène posé et donne deux principales causes. 3pts ;
- 2- Relève trois conséquences générées par ce problème. 3pts
- 3- Propose deux mesures pouvant permettre de répondre aux problèmes urbains dans les grandes villes du Cameroun. 3pts

Présentation : 2pts.