

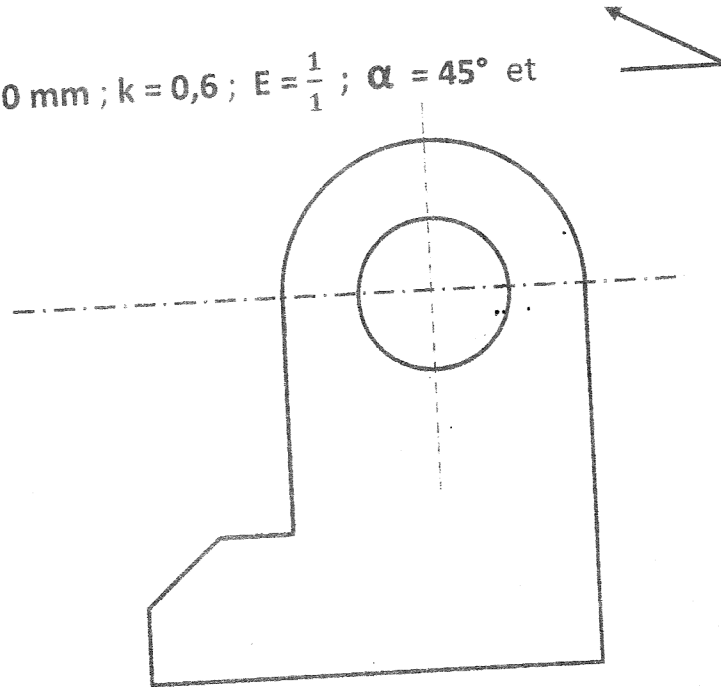
I – EVALUATION DES RESSOURCES : 12 pts

Exercice I : Evaluation des savoir-faire : Perspective cavalière. 07 pts

Reproduire sur la feuille annexe la face principale ci-dessous et réaliser sa perspective cavalière avec mise en page.

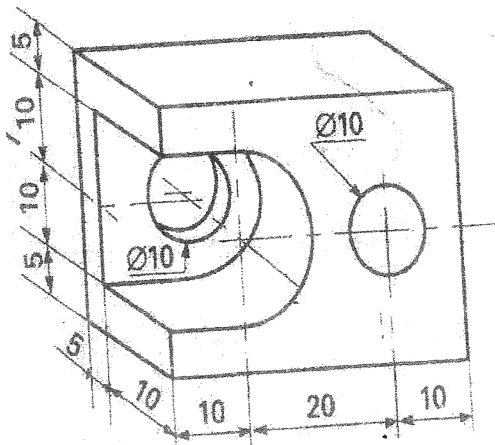
Caractéristiques :

Epaisseur de la pièce : $e = 100 \text{ mm}$; $k = 0,6$; $E = \frac{1}{1}$; $\alpha = 45^\circ$ et



Exercices II : Evaluation des savoir-faire : Projection orthogonale. 05 pts

Réaliser au verso de la feuille annexe, la projection orthogonale de la pièce ci-dessous.

Travail demandé :

- Vue de face.
- Vue de droite.
- Vue de dessous.

Echelle : $E = \frac{2}{1}$

N.B. : la mise en page est déjà faite.

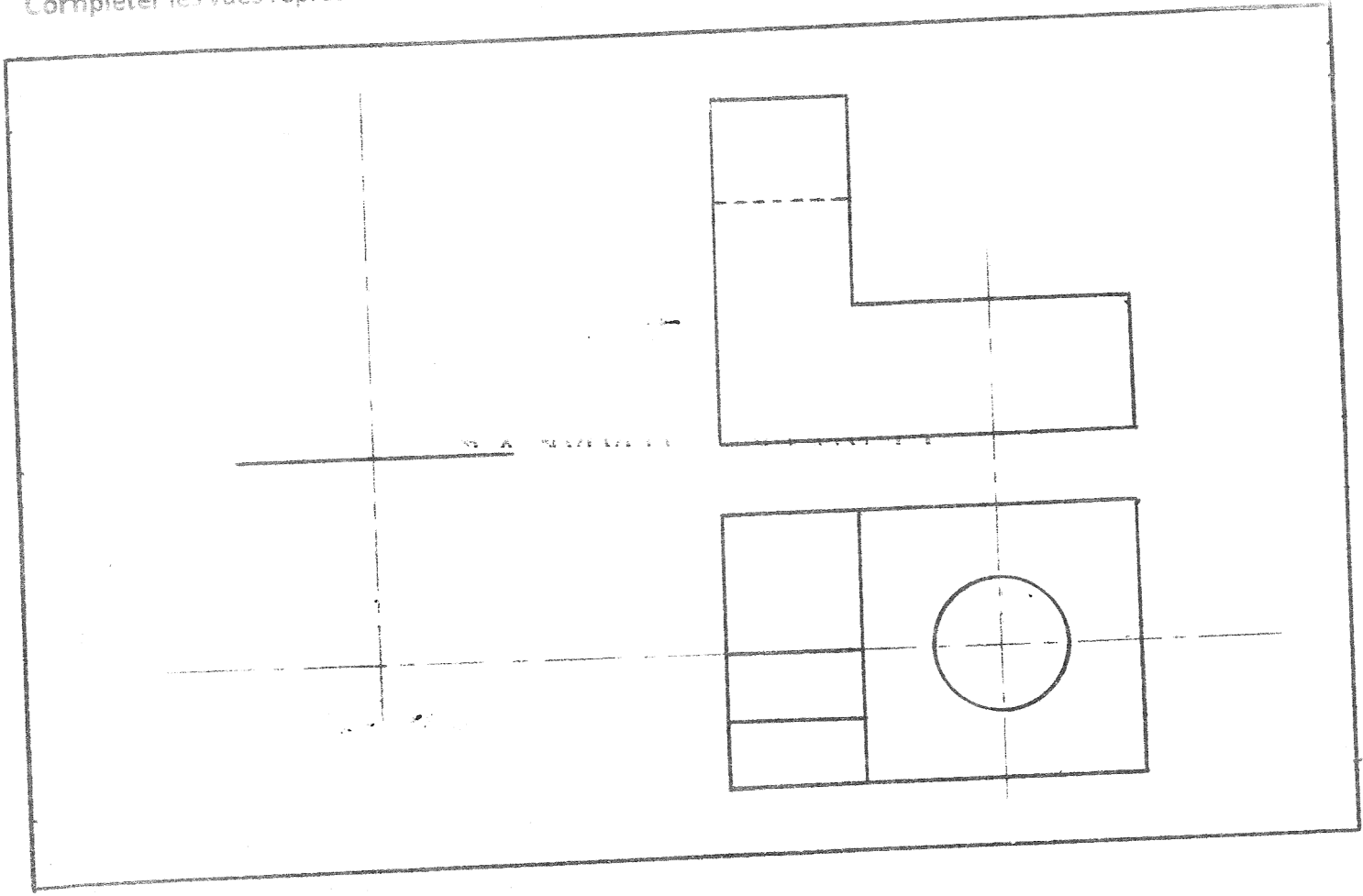
II - EVALUATION DES COMPETENCES : 08 pts

NOMS :

Partie A : Lecture de dessin. 04 pts

CLASSE : 3^e

Compléter les vues représentées ci-dessous en vous servant des correspondances.



Partie B : Lecture de dessin. 04 pts

Réaliser ci-contre la perspective cavalière de la pièce dont la projection orthogonale est faite ci-dessous.

$K = 1$; $E = \frac{1}{1}$; $\alpha = 30^\circ$ et 